

ورقة عمل (3)

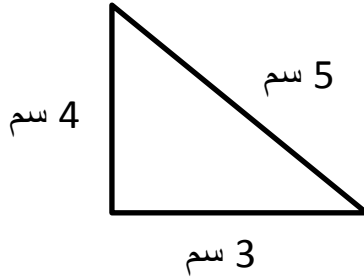
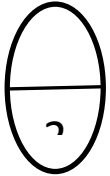
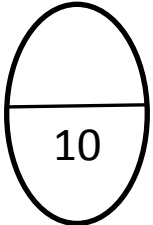
الاسم : العام الدراسي : 2016 / 2015

منطقة مبارك الكبير التعليمية

المادة : رياضيات

مدرسة عائشة محمد الشريف

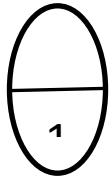
السؤال الأول :



أوجد المحيط :.

المحيط = + +

= سم



أوجد مساحة المنطقة التي أمامك :

المساحة = وحدات مربعة

السؤال الثاني :

أكمل العبارات التالية :.

3 × 5 عشرات = عشرات

3 × 50 =

أختر الإجابة الصحيحة :

(1) ناتج ضرب 7 × 20 هو

(ج) 14

(ب) 1400

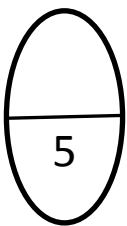
(أ) 140

(2) 3 × 300 =

(ج) 9

(ب) 900

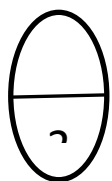
(أ) 90



..... = 9 × 2

..... = 90 × 2

..... = 900 × 2



اعداد المعلمة: نعمات محمد